

あなたのそお市愛が試される！

# そお学

## 特訓ドリル



TAKE  
FREE  
こども おとなも  
じゆうと  
ご自由にお取りください

何問とけるかな？



ねん	くみ	なまえ
----	----	-----


# はじめに

この本は、みなさんがそお市のことをどれぐらい知っているかを確認し、  
またしっかりと身につくように工夫された  
『そお市の国語・そお市の算数・そお市の理科・そお市の社会』を  
1冊にまとめた書きこみ式ドリルです。  
クイズ感覚で気がむいたら取り組む、自由研究として集中して取り組むなど、  
自分の学習の仕方に合わせて使いましょう。

## もくじ

社会	1.そお市の位置 …………… 1
	2.そお市の観光地 …………… 2
	3.そお市のお祭り…………… 3
理科	1.そお星人の1日 …………… 5
	2.夜空の星 …………… 6
	3.ちくさんの町 そお市…………… 7
国語	1.漢字(読む・書く) …………… 9
	2.かごしま弁を学ぼう ① …………… 10
	3.かごしま弁を学ぼう ② …………… 11
算数	1.かけ算・わり算 …………… 13
	2.計算の見積もり・計算の決まり… 14
	3.整理のしかた …………… 15
自由研究	Q&A そお市でクイズを考えよう… 17
	絵日記 …………… 19
	ぬりえ …………… 21

できたらシールをはろう!









し かん こう ち  
2. そお市の観光地

できたら  
シールを  
はろう!

点

(1) 地図と説明を読んで、□の文字をひらがなで埋めましょう。(20点×5)

① 財部町にある夏はずずしくて、

秋は紅葉がきれいな森。

□ □ □ □ □ の森

② 自然にできたほら穴で、今でも

こんこんと地下水が流れ出してる。  
パワースポットともいわれてるよ。

□ □ □ □ □ 洞穴

③ すごく長いすべり台があって、  
6月にはアジサイがたくさん咲くよ。

コケキャンチ □ □ □ □ □

⑤ 高さ15メートルもある弥五郎どの  
どう像がある。桜もいっぱい咲いてるよ。

□ □ □ □ □ □ □ のさと

④ そお市で一番高い山。

てんぼう台もあって、

星空かんさつもできるよ。

□ □ □ □ □

こたえは4ページ



## 1. そお市<sup>し いち</sup>の位置

- (1) ① 鹿児島 ② 宮崎 ③ 末吉 ④ 財部 ⑤ 大隅 ⑥ 大淀川 ⑦ 都城
- (2) ① そお ② たからべ ③ すえよし ④ おおすみ ⑤ みのばる
- ⑥ びゅ ⑦ いわがわ ⑧ みなみのごう ⑨ かんむれ ⑩ あおき
- ⑪ みなみまた ⑫ しょうぶ ⑬ ゆすけばる ⑭ けさがやま ⑮ あぜり
- ⑯ むくひの ⑰ こもがさこ ⑱ くわづる

## 2. そお市<sup>し かん こう ち</sup>の観光地

- (1) ① ゆうきゅう (悠久の森)
- ② みぞのくち (溝ノ口洞穴)
- ③ こうのみね (コケキャンチ高之峯)
- ④ しらがたけ (白鹿岳)
- ⑤ やごろうでんせつのさと (弥五郎伝説の里)

## 3. そお市<sup>し まつ</sup>のお祭り

- (1) ① 開催日：毎年 1月7日・イベント名：熊野神社の鬼追い
- ② 開催日：毎年 11月3日・イベント名：岩川八幡神社の弥五郎どん祭り



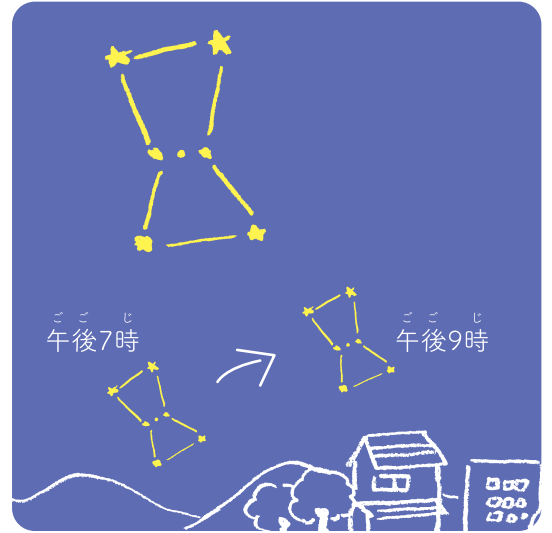
(1) 右のせいざは、冬によく見えるせいざです。次の問いに答えましょう。(5点×3)

① このせいざの名前はなんですか。

\_\_\_\_\_

② このせいざを午後7時と午後9時にかんさつすると  
星の見える位置と星の並び方はどうなるでしょう。  
正しいほうを○でかこみましょう。

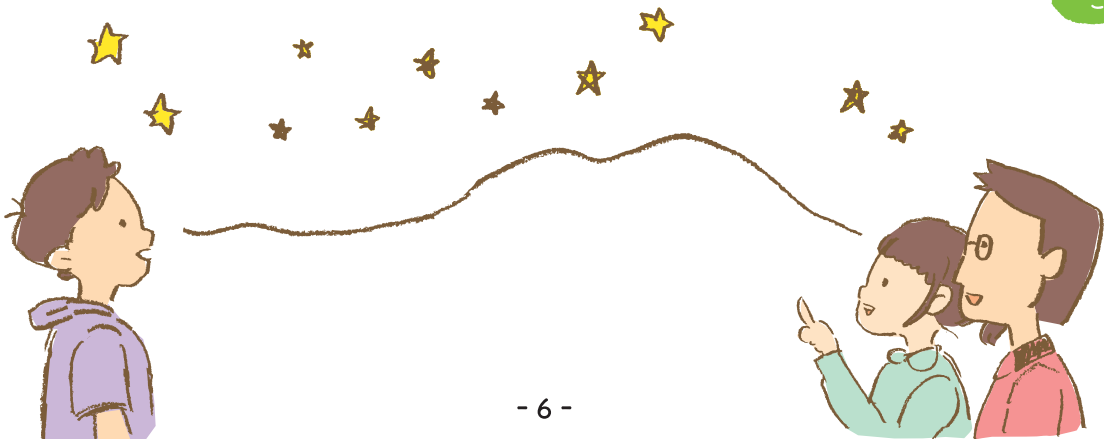
- ・ 星の見える位置は ( かわる ・ かわらない ) 。
- ・ 星の並び方は ( かわる ・ かわらない ) 。



(2) 次の問いを読んで正しいほうに○をしましょう。(17点×5)

星空かんさつには、家の明かりや街灯が ( ① 多く ・ 少なく ) まわりに建物が ( ② ない ・ ある )  
空が開けているところが向いています。そお市内だと ( ③ 白鹿岳 ・ 溝ノ口洞穴 ) がおすすめです。  
夜は思った以上に寒くなるので、( ④ 暖かい ・ 涼しい ) 服ででかけましょう。夏は、飲み物や虫よけ  
スプレーなども忘れずに持って行ってください。また、暗いので ( ⑤ 懐中電灯 ・ あくまき ) で  
足元を照らしながら、お父さんやお母さんといっしょに行動しましょう。

こたえは8ページ



# 3. ちくさんの町 そお市

できたら  
シールを  
はろう!

点


(1) 次の文章を読み  の中から選んで ( ) を答えましょう。(20点×2)

そお市は、鹿児島黒牛や ( ① ) などを育てる

全国有数の「ちくさんの町」として有名です。

大隅町で ( ② ) 行われる子牛のせり市には、

県外からも多くの人々がやってきます。




黒ぶた・マンモス・毎月・毎年・100年に一度

(2) 次の牛の絵をみて、  
 の中から選んで  
部位を答えましょう。

(20点×3)

モモ・タン・バラ  
ハラミ・テール  
サーロイン・ハツ



- ① 背肉の部分で筋肉が少ないので、きめが細かく柔らかい。
- ② あばら骨の周辺の部位。カルビとしても食べられています。
- ③ 筋肉があつまっている赤身の部分。

こたえは8ページ





# 1. 漢字 (読む・書く)

できたら  
シールを  
はろう!


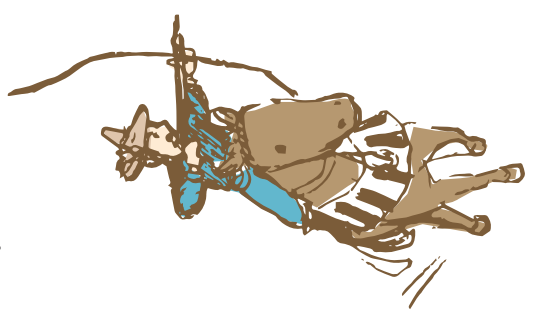
(1) 次の□に漢字を書きましょう。(5点×6)

- 1 豊於市はじ□が美味しい。
- 2 弥五郎伝説の里は□がきれいだ。
- 3 豊於市には図用牛改良□□所がある。
- 4 溝ノ口洞穴の中は□い。
- 5 そお屋人と□□になった。
- 6 県下一周□□で豊於チームを応援する。



(2) 次の漢字の読みがなを( )に書きましょう。(8点×5)

- 1 住吉神社では毎年11月23日に流鏝馬が行われる。
- 2 豊於市はゆずの栽培が盛んで、特産品のひとつだ。
- 3 大淀川の源流は、中岳タムの近くにある。
- 4 神社もたくさんあって、どっに行こうか迷う。
- 5 そお屋人は宇宙からきた地球外生命体だ。



こたえは12ページ

# 2. がーしま弁を学ぼう①

できたら  
シールを  
はろう!

(1) 単語の意味が同じものを線で結びなさい。(8問×5)

つがるじん

・ すめこ

すんくひら

・ 適当

だれる

・ 書おれ

こげこげ

・ 豆腐

おかぐ

・ 疲れる



(2) 次のことはどんな意味を表していますか。(10問×6)

① たまがる

( )



② おぼろ

( )



③ ずんだれ

( )



④ そつぷり

( )



⑤ ちんから

( )



⑥ ほつた

( )



### 3. がーしま弁を学ぼう②

できたら  
シールを  
はろう!

(1) 次の文章を読んで、あとの問いに答えましょう。(20点×5)

むかーし、山<sup>やま</sup>中<sup>なか</sup>にじいさんとばあさんがおいやした。ある日<sup>ひ</sup>んこ、ばあさんが川<sup>かわ</sup>で洗濯<sup>せんたく</sup>をしーちよったなら、どんぶらこーどんぶらこーち、ふっとか桃<sup>もも</sup>が流<sup>なが</sup>れてきもした。

「もく、じいさんに食べさせーせ！うんめ桃<sup>もも</sup>、こっちこーい！じいさんといっどき、たもろこーなあ」

ばあさんが呼<sup>よ</sup>んだなら、桃<sup>もも</sup>が岸<sup>し</sup>んほせえきもした。

「どっこいしょ。んーこれおび桃<sup>もも</sup>じゃいこ」

やっときつと、うちもつかいやした。よのいもてなつ山<sup>やま</sup>にたつぐぬといっきやつたじいさんが帰<sup>かえ</sup>つきやした。

「ごくろうさぐあしたなあーきはよかあもんがあんど。ふたいで、たもいもんそなあ」

そげん言<sup>い</sup>うて、ばあさんが桃<sup>もも</sup>を切<sup>き</sup>ろうちすつと、パッカーン！ふっとか音<sup>おと</sup>がして桃<sup>もも</sup>がまっぶた！じいさんたちや、腰<sup>こし</sup>ぬかすこないもした。じゃつち桃<sup>もも</sup>ん中<sup>なか</sup>から、元<sup>げん</sup>気<sup>き</sup>なおとこんこが<sup>で</sup>出てきたとやしと。

1 これは、日本<sup>にほん</sup>昔<sup>むかし</sup>話<sup>はなし</sup>ですが、何<sup>なん</sup>の物<sup>もの</sup>語<sup>ご</sup>ですか。

( )

2 おじいちゃんとおばあちゃんが住<sup>す</sup>んでるのせどこですか。

( )

3 おばあさんは、なぜ桃<sup>もも</sup>を持<sup>も</sup>って帰<sup>かえ</sup>ったのですか。

( )

4 桃<sup>もも</sup>を切<sup>き</sup>ろつとしたのは誰<sup>だれ</sup>ですか。

( )

5 中<sup>なか</sup>から何<sup>なに</sup>が<sup>で</sup>出てきましたか。

( )



実際に  
聞いてみよう!



# いだけ

## 1. 漢字 (読む・書く)

(1) ① 飯 ② 桜 ③ 研究 ④ 暗 ⑤ 友達 ⑥ 駅伝

(2) ① やちやめ ② わらわら・うらわら ③ せんじん  
④ うらわら・わら ⑤ いんじん・わらわらからからから

## 2. がいしき井を学ぼう ①

(1) つるむし		ちまご
まんじり		適当
だれる		書物
ごごご		豆腐
おがく		疲れる

(2) ① 驚く  
② 頑張る  
③ だらしない  
④ ごごご  
⑤ ひねひね  
⑥ びっくりした

## 3. がいしき井を学ぼう ②

(1) ① 桃太郎  
② 口の井  
③ おつらわらに飯くわわらだめ  
④ おまおわら  
⑤ 黒の井

# 1. かけ算・わり算

できたら  
シールを  
はろう!


点

(1) 文章をよんで、筆算をつかって計算しましょう。(25点×4)

- ① 大隅町にあるその中央家畜市場で子牛のせり市をやっていて、そこに59匹の子牛がいます。  
この子牛を1人5匹ずつ連れて帰ったら、何人に分けられ、何匹余りますか。




- ② 4月8日に近い日曜日に溝ノ口洞けつでやる奴踊りの練習が始まりました。65人が集まったので、6人グループに分けたら、何グループできて、何人余りますか。



- ③ 末吉町では、ゆずの収穫が始まりました。5人の農家さんが135個ずつ、市役所に持ってきました。  
全部でゆずは何個ありますか。



- ④ 1月7日に熊野神社の鬼追いで、鬼は1人4回ずつ、そこにいた148人全員を叩きました。  
鬼は全部で何回叩きましたか。



こたえは16ページ

# 2. 計算の見積もり・ 計算の決まり

できたら  
シールを  
はろう!

点

(1) 下の表はそお市の人口を調べたものです。次の問いに答えましょう。(25点×2)

そお市の男性	17201人
そお市の女性	19447人

(平成30年3月1日現在)

① そお市の男性と女性の差は何人になりますか。

---

② そお市の全体の人口は何人になりますか。

---


(2) 次の文章を読んで、( )を使った1つの式に表し、答えを求めましょう。(25点×2)

① 170円のゆず吉くンドリンクと410円のゆずドレッシングがセットになって売っています。  
5セット買うと、代金はいくらですか。




---

② 1キロ273円のさつまいもを、1キロにつき35円安くしてもらったので、20キロ買いました。  
5000円出すと、おつりはいくらになりますか。




---



### せいり 3. 整理のしかた

できたら  
シールを  
はろう!

点

(1) 家で <sup>いえ</sup> べぶ と <sup>にわとい</sup> を飼っているか調べて、次のカードにまとめました。

例) <sup>れい ひらさわつ</sup> 平沢津さんは、<sup>べぶ</sup> べぶを飼っているが、<sup>にわとい</sup> にわといは飼っていない。⇒ (○・×)

 べぶ	<sup>た なか</sup> 田中 (○・○)	<sup>や ぎ</sup> 八木 (×・×)	<sup>つ る</sup> 水流 (○・×)	<sup>にし べつ ぶ</sup> 西別府 (○・○)	 にわとい
	<sup>おお さこ</sup> 大迫 (×・○)	<sup>ひさ なが</sup> 久永 (○・×)	<sup>とみ なが</sup> 富永 (○・×)	<sup>にし こく ばる</sup> 西国原 (×・○)	

① <sup>べぶ</sup> べぶ も <sup>にわとい</sup> にわとい も飼っていないのは誰ですか。  
(5点)

---

② <sup>とみなが</sup> 富永さんは何を飼ってますか。  
(5点)

---

③ この資料を表にまとめましょう。(10点×9)

<sup>べぶ</sup> べぶ \ <sup>にわとい</sup> にわとい	<sup>か</sup> 飼っている	<sup>か</sup> 飼っていない	<sup>ごうけい</sup> 合計
<sup>か</sup> 飼っている			
<sup>か</sup> 飼っていない			
<sup>ごうけい</sup> 合計			

## 1. かけ算・わり算

- (1) ①  $59 \div 5 = 11$ 人 残り4匹  
 ②  $65 \div 6 = 10$ グループ 残り5人  
 ③  $5 \times 135 = 675$ 個  
 ④  $4 \times 148 = 592$ 回

## 2. 計算の見積もり・計算の決まり

- (1) ①  $19447 - 17201 = 2246$ 人  
 ②  $19447 + 17201 = 36648$ 人  
 (2) ①  $(170 + 410) \times 5 = 2900$ 円  
 ②  $5000 - \langle (273 - 35) \times 20 \rangle = 240$ 円

## 3. 整理のしかた

- (1) ① 八木さん  
 ② べぶ(牛)

③

べぶ \ にわとい	飼っている	飼っていない	合計
飼っている	2	3	5
飼っていない	2	1	3
合計	4	4	8



# Q&A そお市でクイズをかんがえよう

そお市のことでクイズをかんがえて、ともだちに出してみよう!

できたら  
シールを  
はろう!

例) Q. そお市の公認キャラクターで「そお!そお!」としゃべるのは?

A. そお星人

Q.

A.

# Q&A そお市でクイズを考えよう

そお市のことでクイズを考えて、友達に出してみよう!

できたら  
シールを  
はろう!

例) Q.そお市の公認キャラクターで「そお!そお!」としゃべるのは?

A.そお星人

Q.

A.






# ぬりえ

そお市を自分色に染めよう!好きな色で塗ってみましょう

できたら  
シールを  
はろう!





## おわりに

このドリルの問題を全部解き終わったなら、  
そお市のことを少し知れたと思います。

でも、百聞は一見にしかず。

ぜひお祭りを見にいたり、白鹿岳からみる星空を眺めてみたり、  
そお星人に会いにいたり、実際にそお市を体感して欲しいんです。

そお市のこと、もっともっと学んで、  
どんどん好きになって、「そお学」を深めてください。



まいとし  
毎年 1月7日  
くまの じんじゃ おにお  
熊野神社の鬼追い



まいとし ちか にちようび  
毎年4月8日に近い日曜日  
みぞの くらどう やっこおど  
溝ノ口洞けつの奴踊り




まいとし  
毎年 11月3日  
いわがわ はちまんじんじゃ や ごろう まつ  
岩川八幡神社の弥五郎どん祭り



まいとし  
毎年 11月23日  
すみよしじんじゃ やぶさめ  
住吉神社の流鏝馬

そお<sup>し</sup>市のことをもっと知ろう!



鹿児島県曾於市役所 企画課

〒899-8692 鹿児島県曾於市末吉町二之方1980番地

TEL.0986-76-1111(代表) FAX. 0986-76-1122

そお学<sup>がく</sup>  
特訓<sup>とっくん</sup>ドリル

